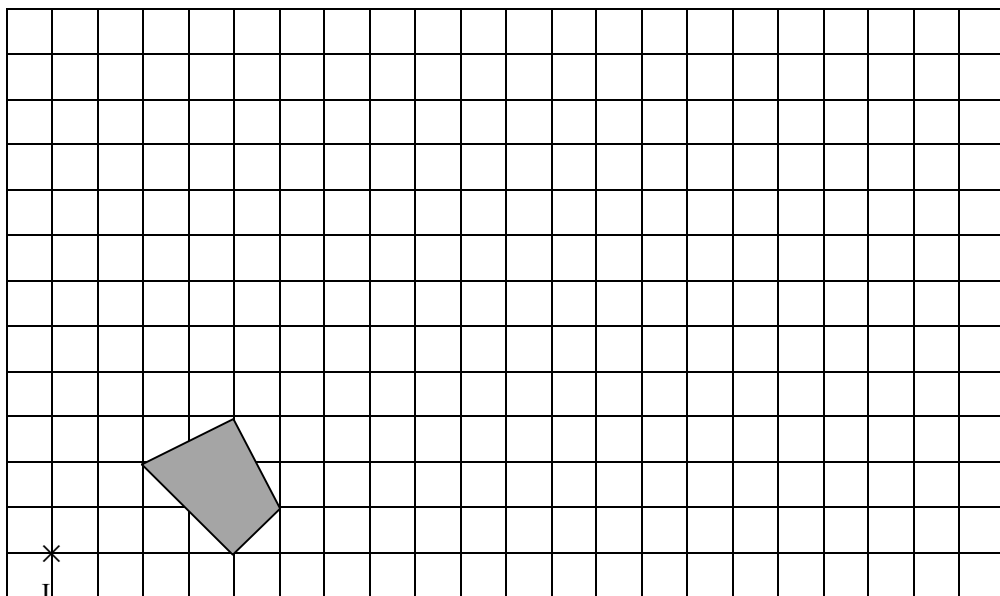
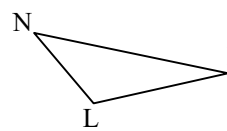


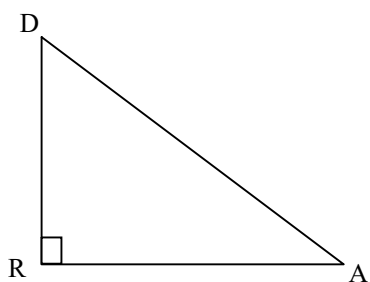
1 Construire l'image de la figure ci-dessous par l'homothétie de centre J et de rapport 3.



2 Construire l'image du triangle NIL ci-dessous par l'homothétie de centre I et de rapport 2,5.



3 Construire l'image du triangle DRA rectangle en R par l'homothétie de centre O et de rapport 0,6.



×
O