
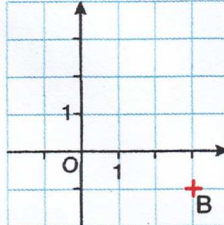


Nom :
Prénom :
5°

Je m'évalue à mi-parcours



Pour chaque question, une seule réponse est exacte.


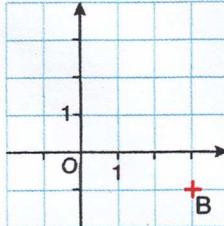
	a	b	c
60 Le nombre -8 peut s'écrire...	$15-7$	$1-8$	$0-8$
61 Sur cette droite graduée, l'abscisse du point A est environ... 	2,8	-2,8	-3,2
62 La distance à zéro du nombre $-10,5$ est...	10	10,5	$-10,5$
63 L'opposé du nombre $7,1$ est le nombre...	1,7	$-7,1$	$-1,7$
64 Dans ce repère, les coordonnées du point B sont... 	$(3; -1)$	$(3; 1)$	$(-1; 3)$
65 Le plus grand nombre entier inférieur à $-5,4$ est...	-4	-5	-6
66 La liste rangée par ordre croissant est...	$-1,56; -1,7; -1,09$	$-1,7; -1,56; -1,09$	$-1,09; -1,56; -1,7$

Nom :
Prénom :
5°

Je m'évalue à mi-parcours



Pour chaque question, une seule réponse est exacte.

	a	b	c
60 Le nombre -8 peut s'écrire...	$15-7$	$1-8$	$0-8$
61 Sur cette droite graduée, l'abscisse du point A est environ... 	2,8	-2,8	-3,2
62 La distance à zéro du nombre $-10,5$ est...	10	10,5	$-10,5$
63 L'opposé du nombre $7,1$ est le nombre...	1,7	$-7,1$	$-1,7$
64 Dans ce repère, les coordonnées du point B sont... 	$(3; -1)$	$(3; 1)$	$(-1; 3)$
65 Le plus grand nombre entier inférieur à $-5,4$ est...	-4	-5	-6
66 La liste rangée par ordre croissant est...	$-1,56; -1,7; -1,09$	$-1,7; -1,56; -1,09$	$-1,09; -1,56; -1,7$