




Symétrie axiale (1/3)

I) Dans chaque cas, décalque la figure, plie sur l'axe puis décalque son symétrique. Colle le calque à droite de la figure.



II) Définition

Deux figures sont symétriques par rapport à une droite (d) lorsqu'elles se superposent par pliage autour de la droite (d).

III) Figures symétriques sur quadrillages

Trace le symétrique de chacune des figures par rapport à l'axe.

